


Theorie-Fragen

- Laufzeit von QR-Zerlegung
- Laufzeit von Skalarprodukt(x^T, y), beide Vektoren haben gleich viele Elemente
- Wie nennt man Algorithmen die Fehler in den Eingabedaten verstärken
- Nenne Sie ein direktes und ein iteratives Verfahren zur Lösung von LGS
- Was ist der Unterschied zwischen dem Gauss-Seidel- und dem Jakobiverfahren
- IEEE 754 Bestandteile außer Vorzeichen
- 3 Merkmale von Bézierkurven

Aufgabe 1 - Matrix Formatierung (11 Punkte)

a) PLR-Zerlegung von


$$A = \begin{bmatrix} 3 & 3 \\ 6 & 9 \end{bmatrix}$$



b) Gegeben ist eine Matrix B und eine Rotationsmatrix S, sodass $S^*B = \begin{bmatrix} * & * \\ 0 & * \end{bmatrix}$ gilt.

$$B = \begin{bmatrix} 6 & -4 \\ 8 & 2 \end{bmatrix}, S = \begin{bmatrix} 0.6 & 0.8 \\ -0.8 & 0.6 \end{bmatrix}$$


Bestimmen Sie die QR-Zerlegung der Matrix B, indem Sie die Rotationsmatrix S verwenden.



c) Von der Matrix C ist folgende QR-Zerlegung bekannt:

$$B = \begin{matrix} \begin{bmatrix} 0.6 & -0.8 \\ 0.8 & 0.6 \end{bmatrix} & * & \begin{bmatrix} 10 & 7 \\ 0 & -1 \end{bmatrix} \\ \text{Q} & & \text{R} \end{matrix}$$

Lösen sie das lineare Gleichungssystem $Cx = b$ für $b = [10, 10]$




c) Gegeben sein die Punkte

$$P_1 = \begin{bmatrix} 0 \\ 0 \\ 0 \end{bmatrix}, \quad P_2 = \begin{bmatrix} 1 \\ 0 \\ 1 \end{bmatrix},$$

$$P_3 = \begin{bmatrix} 0 \\ 1 \\ 1 \end{bmatrix}, \quad P_4 = \begin{bmatrix} 1 \\ 1 \\ 1 \end{bmatrix}$$

Bestimmen Sie den bilinearen Interpolanten $F_{st}(s,t)$ der Eckpunkte P_1, P_2, P_3, P_4 sodass

$$F_{st}(0, 0) = P_1, \quad F_{st}(1, 0) = P_2, \quad F_{st}(0, 1) = P_3, \quad F_{st}(1, 1) = P_4$$



4. Python

a) Median (L)

b) count_even(L)

c) set_one(L , e)

-> alle Elemente die e sind auf 1 gesetzt


d) remove_smallest(L , e)

-> alle Elemente kleiner e sollten entfernt werden

e) every_third(L)

-> Kopie der Liste zurück, in der nur jedes 3. Element der ursprünglichen Liste drin ist

Residuum Berechnen Sie die L2-Norm des Residuums für den Vektor $x = [1, 3]^T$ und b sowie die Matrix A .



Aufgabe 8 – Python (12 Punkte)

Hinweis: In dieser Aufgabe dürfen keine numpy Funktionen verwendet werden. Die Matrizen und Vektoren sind 2D bzw 1D. Der Zugriff auf Elemente einer Matrix A erfolgt mit zB `A[4][1]`. In diesem Fall wird auf Zeile 5 und Spalte 2 zugegriffen, da die Indizierung bei 0 beginnt. Bei einem Vektor a erfolgt der Zugriff mit `a[2]` für das dritte Element.

- a) **Polynom auswerten (Horner Schema)** Implementieren Sie die Funktion `polynom_eval(coefficients, x)`. Die Funktion wertet ein Polynom deren Koeffizienten in `coefficients` gespeichert sind an der Stelle `x` mit dem Horner Schema aus und gibt das Ergebnis zurück. Der erste Eintrag in `coefficients` gehört zur höchsten Potenz. `coefficients` enthält einen Eintrag für jede Potenz auch wenn dieser 0 sein sollte. Beispiel: Für das Polynom $2 * x^3 + 5 * x + 8$ wären `coefficients = [2, 0, 5, 8]`. Die Liste `coefficients` hat mindestens ein Element.

```
def polynom_eval(coefficients, x):
```

b) Matrix-Norm Implementieren Sie die Funktion `row_sum_norm(A)`. Die Funktion bekommt eine Matrix A übergeben. Die Funktion gibt die Zeilensummennorm der Matrix A zurück. Die Zeilensummennorm ist die maximal Betragssumme der Zeilen. Es muss also die Summe der Beträge der Einträge jeder Zeile berechnet und anschließend das Maximums gefunden werden. Mathematisch bedeutet dies: $\max_{i=1,\dots,m} \sum_{j=1}^n |a_{ij}|$ für eine Matrix $A \in \mathbb{R}^{m \times n}$ also m Zeilen und n Spalten. Sie können annehmen dass $m, n > 0$.

```
def row_sum_norm(A):
```

- c) **Matrix-Matrix Multiplikation** Implementieren Sie die Funktion `mat_mult(A, B)`. Die Funktion bekommt zwei Matrizen A und B übergeben. Die Funktion gibt das Ergebnis der Multiplikation als 2D-Liste zurück Sie können davon ausgehen, dass die Matrizen quadratisch sind und mindestens eine Dimension von 1x1 haben ($A, B \in \mathbb{R}^{n \times n}$, $n \in \mathbb{N}$).

```
def mat_mult(A, B):
```

10. BCRS

a) Matrix war gegeben, man sollte die Arrays
val, col_idx und row_idx bestimmen
- Indizierung bei 0 in der Klausur begonnen!

b) Speicherbedarf Differenz „ohne BCRS“
und „mit BCRS“ ausrechnen